

Документ подписан простой электронной подписью
Информация о владельце:
ФИО: Гарант Максим Алексеевич
Должность: Ректор
Дата подписания: 01.11.2023 14:53:49
Уникальный программный ключ:
7708e7a47e66a8ee02711b298d7e78bd1e40bf88

Приложение
к рабочей программе дисциплины

**ОЦЕНОЧНЫЕ МАТЕРИАЛЫ ДЛЯ ПРОМЕЖУТОЧНОЙ АТТЕСТАЦИИ
ПО ДИСЦИПЛИНЕ (МОДУЛЮ)**

Общий курс железных дорог
(наименование дисциплины(модуля))

Направление подготовки / специальность
23.05.03 Подвижной состав железных дорог
(код и наименование)

Направленность (профиль)/специализация
" Электрический транспорт железных дорог "
(наименование)

Содержание

1. Пояснительная записка.
2. Типовые контрольные задания или иные материалы для оценки знаний, умений, навыков и (или) опыта деятельности, характеризующих уровень сформированности компетенций.
3. Методические материалы, определяющие процедуру и критерии оценивания сформированности компетенций при проведении промежуточной аттестации.

1. Пояснительная записка

Цель промежуточной аттестации – оценивание промежуточных и окончательных результатов обучения по дисциплине, обеспечивающих достижение планируемых результатов освоения образовательной программы.

Формы промежуточной аттестации: зачет (по очной форме – 3 семестр; по заочной форме – 2 курс)

Перечень компетенций, формируемых в процессе освоения дисциплины

| Код и наименование компетенции | Код индикатора достижения компетенции |
|--|---------------------------------------|
| ОПК-3 Способен принимать решения в области профессиональной деятельности, применяя нормативную правовую базу, теоретические основы и опыт производства и эксплуатации транспорта | ОПК-3.3 |

Результаты обучения по дисциплине, соотнесенные с планируемыми результатами освоения образовательной программы

| Код и наименование индикатора достижения компетенции | Результаты обучения по дисциплине | Оценочные материалы (семестр 3 офо; курс 2 зфо) |
|---|---|---|
| ОПК-3.3 Использует теоретические основы и опыт производства для принятия решений в области эксплуатации железнодорожного транспорта | Обучающийся знает: основные понятия производства для принятия решений в области эксплуатации железнодорожного транспорта | Вопросы (№ 1 - № 5) |
| | Обучающийся умеет: решать типовые задачи используя теоретические основы и опыт производства для принятия решений в области эксплуатации железнодорожного транспорта | Задания (№1 - №3) |
| | Обучающийся владеет: навыками решения типовых задач используя теоретические основы, применяя нормативно-правовую базу и опыт производства для принятия решений в области эксплуатации железнодорожного транспорта | Задания (№4 - №6) |

Промежуточная аттестация (зачет) проводится в одной из следующих форм:

- 1) собеседование;
- 2) выполнение заданий в ЭИОС СамГУПС.

2. Типовые¹ контрольные задания или иные материалы для оценки знаний, умений, навыков и (или) опыта деятельности, характеризующих уровень сформированности компетенций

2.1 Типовые вопросы (тестовые задания) для оценки знаниевого образовательного результата

Проверяемый образовательный результат (3 семестр):

¹Приводятся типовые вопросы и задания. Оценочные средства, предназначенные для проведения аттестационного мероприятия, хранятся на кафедре в достаточном для проведения оценочных процедур количестве вариантов. Оценочные средства подлежат актуализации с учетом развития науки, образования, культуры, экономики, техники, технологий и социальной сферы. Ответственность за нераспространение содержания оценочных средств среди обучающихся университета несет заведующий кафедрой и преподаватель – разработчик оценочных средств.

| Код и наименование индикатора достижения компетенции | Образовательный результат |
|---|--|
| ОПК-3.3 Использует теоретические основы и опыт производства для принятия решений в области эксплуатации железнодорожного транспорта | Обучающийся знает: основные понятия производства для принятия решений в области эксплуатации железнодорожного транспорта |
| <p><i>Примеры вопросов/заданий</i></p> <p>Вопрос 1: На железнодорожном переезде преимущественное право движения через переезд имеет</p> <ol style="list-style-type: none"> человек поезд автомобиль <p>Вопрос 2: Возможная пропускная способность по перегонам устанавливается на основании:</p> <ol style="list-style-type: none"> построения графика движения поездов; определения скорости движения поездов; установленной массы состава. <p>Вопрос 3: Светофоры, которые запрещают или разрешают проследовать с одного района станции в другой, называются:</p> <ol style="list-style-type: none"> маршрутными; проходными; предупредительными. <p>Вопрос 4: Маневровой работой на станциях называется:</p> <ol style="list-style-type: none"> техническое обслуживание локомотивов перевод локомотива с одного главного пути на другой работа, связанная с передвижением при расформировании и формировании составов, подаче вагонов к местам погрузки-выгрузки, подаче поездных локомотивов к составам <p>Вопрос 5: В состав парка грузовых вагонов входят:</p> <ol style="list-style-type: none"> вагоны для перевозки сыпучих грузов вагоны для перевозки жидких нефтепродуктов крытые вагоны, платформы, полувагоны, цистерны, изотермические вагоны и вагоны специального назначения | |

2.2 Типовые задания для оценки навыкового образовательного результата

Проверяемый образовательный результат (3 семестр):

| Код и наименование индикатора достижения компетенции | Образовательный результат |
|---|---|
| ОПК-3.3 Использует теоретические основы и опыт производства для принятия решений в области эксплуатации железнодорожного транспорта | Обучающийся умеет: решать типовые задачи используя теоретические основы и опыт производства для принятия решений в области эксплуатации железнодорожного транспорта |
| <p><i>Примеры заданий</i></p> <p>Задание 1. «Определение норм массы и длины состава грузового поезда»</p> <p>Требуется:</p> <ol style="list-style-type: none"> Определить массу и длину состава грузового поезда. | |

2. Определить необходимую длину приемоотправочных путей.
3. На основе сравнения расчетной (необходимой) длины приемоотправочных путей станции с заданной проанализировать возможность увеличения (необходимость уменьшения) длины и массы поезда.
4. Определить экономию (дополнительные затраты) эксплуатационных средств при увеличении (уменьшении) средней массы грузовых поездов на дороге.
5. Сделать вывод о полученных результатах.

Исходные данные

Серия локомотива - 2ТЭ10Л

Масса локомотива, т – 258

Длина локомотива, м - 34

Расчётная сила тяги, кгс - 50600

Сила тяги при трогании с места, кгс - 76500

Основное удельное сопротивление локомотива, кгс/т - 2,29

Основное удельное сопротивление вагонов, кгс/т - 1,5

Руководящий уклон участка, ‰ - 10

Наибольший уклон путей раздельного пункта, ‰ - 2,5

Удельное сопротивление поезда при трогании с места, кгс/т - 4

Средняя длина вагона, м - 15,75

Масса брутто грузового вагона, т - 69

Длина станционных приемоотправочных путей, м - 1050

Экономия эксплуатационных расходов на дороге при увеличении массы грузовых составов на 1 т, млн. руб./год – 0,48

Методические указания к решению задачи

Масса состава грузового поезда брутто определяется исходя из условия движения его с установившейся скоростью по руководящему уклону. Расчетная формула имеет следующий вид:

$$Q = \frac{F_k - P(w'_0 + i_p)}{w''_0 + i_p}, \quad (1.1)$$

где: F_k - сила тяги локомотива при расчетной скорости, кгс;

P - масса локомотива, т;

w'_0, w''_0 - основное удельное сопротивление локомотива и вагонов при расчётной скорости, кгс/т;

i_p - величина расчётного уклона, ‰.

Рассчитав по формуле (1.1) массу состава грузового поезда, необходимо произвести проверку на условие его трогания с места на раздельных пунктах:

$$Q^{mp} = \frac{F_{mp}}{w_{mp} + i_{mp}} - P, \quad (1.2)$$

где: F_{mp} - сила тяги локомотива при трогании с места грузового состава, кгс;

w_{mp} - удельное сопротивление поезда при трогании с места, кгс/т;

i_{mp} - уклон путей раздельного пункта, ‰.

Из величин Q и Q^{mp} за норму массы грузового поезда брутто $Q_{бр}$ принимают наименьшую:

$$Q_{бр} = \begin{cases} Q, & \text{если } Q \leq Q_{тр}; \\ Q_{тр}, & \text{если } Q \geq Q_{тр}. \end{cases} \quad (1.3)$$

Рассчитанное значение принятой нормы массы поезда округляют кратно 50 т.

На основе рассчитанной нормы массы грузового поезда и данных о средней массе вагона брутто

определяется количество вагонов m_c в составе грузового поезда:

$$m_c = \frac{Q_{бр}}{q_{бр}}, \quad (1.4)$$

где: $q_{бр}$ - средняя масса вагона брутто, т.

Необходимая длина приемоотправочных путей на станциях для возможности размещения поезда рассчитанной массы определяется по формуле:

$$l_n = m_c l_{ваг} + l_{лок}, \quad (1.5)$$

где: $l_{ваг}$ - средняя длина вагона, м;

$l_{лок}$ - длина локомотива, м.

Необходимая длина приемоотправочных путей на станции с учетом поправки на неточность установки поезда, равной 10м, определяется:

$$l_{расч} = l_n + 10. \quad (1.6)$$

После определения расчетной (необходимой) длины приемоотправочных путей производится ее сравнение с заданной длиной путей.

При $l_{расч} = l_{пути}$ возможно размещение поезда рассчитанной массы на станционных приемоотправочных путях. При $l_{расч} < l_{пути}$ имеется резерв, который позволяет увеличить длину поезда. При $l_{расч} > l_{пути}$ необходимо уменьшить длину состава. Величина уменьшения (увеличения) длины поезда:

$$\Delta l_n = l_{пути} - l_{расч}. \quad (1.7)$$

При $\Delta l > 0$ имеется возможность увеличить длину поезда, что в свою очередь позволяет увеличить его массу.

В случае $\Delta l < 0$ уменьшение длины состава приводит к уменьшению массы поезда соответственно к увеличению количества поездов, что в свою очередь приводит к дополнительным эксплуатационным расходам.

Изменение (увеличение, уменьшение) массы поезда рассчитывается по формуле:

$$\Delta Q_{бр} = \frac{|\Delta l_n|}{l_{ваг}} q_{бр}, \quad \text{т.} \quad (1.8)$$

Годовая экономия (дополнительные затраты) эксплуатационных расходов при увеличении (уменьшении) массы поезда составит:

$$\Delta \mathcal{E} = \Delta Q_{бр} C_{бр} 10^3, \quad \text{тыс. руб./год}, \quad (1.9)$$

где: $C_{бр}$ – годовая экономия эксплуатационных расходов при увеличении (уменьшении) массы всех грузовых поездов на дороге.

Задание 2.

«Выбор рациональной конструкции пути и экономии расходов на ее содержание и ремонт»

Исходные данные для решения задачи приведены в таблице 1.

Таблица 1

Исходные данные для расчета расходов на содержание и ремонт пути

| № варианта | Две последние цифры учебного шифра | Грузонапряженность линии, Г, млн. т·км бр./км в год | Пропущенный тоннаж до капитального ремонта, Т, млн. т брутто |
|------------|------------------------------------|---|--|
| 1 | 00 20 40 60 80 | 10 | 300 |

Таблица 2

Нормы периодичности ремонтов пути

| Тип верхнего строения пути | Пропущенный тоннаж, млн. т брутто |
|----------------------------|-----------------------------------|
|----------------------------|-----------------------------------|

| | a | b | c | d |
|----------------------------------|------------------------|----------------|------------------------|--------------------|
| | 1-й подъемочный ремонт | средний ремонт | 2-й подъемочный ремонт | капитальный ремонт |
| Особо тяжелый - рельсы типа Р 75 | 180 | 340 | 500 | 650 |
| Тяжелый - рельсы типа Р 65 | 150 | 280 | 400 | 500 |
| Нормальный - рельсы типа Р 50 | 110 | 200 | 280 | 350 |

Одним из критериев назначения ремонта является фактическое состояние элементов верхнего строения пути. В настоящее время основным элементом верхнего строения, состоянием которого оценивается состояние пути, являются рельсы. Состояние рельсов определяется величиной удельного (среднего на 1 км длины участка) одиночного выхода рельсов по различным дефектам. Установлено, что капитальный ремонт необходимо выполнять по достижении суммарного удельного одиночного изъятия 7 шт./км для рельсов Р 50; 4 шт./км - рельсов Р 65; 3 шт./км - Р 75.

На рис 1. представлены зависимости одиночного выхода для различных типов рельсов.

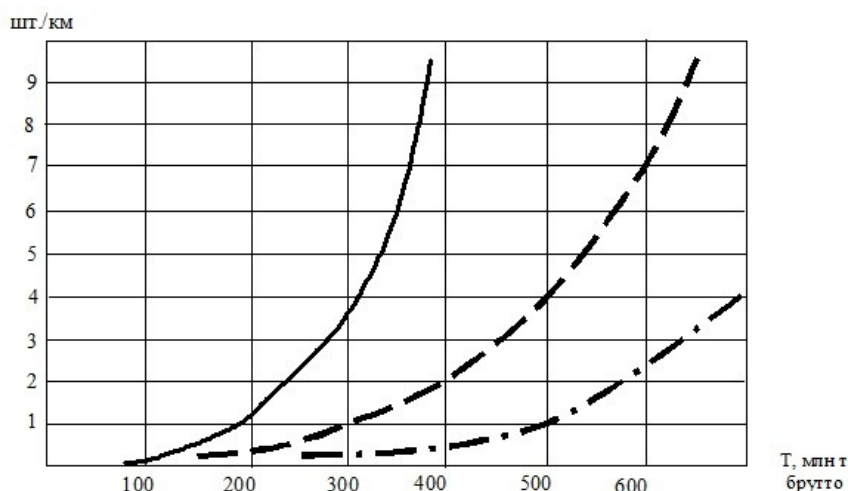


Рис. 1. Графики суммарного одиночного выхода рельсов от пропущенного тоннажа:
— Р50; ---- Р65; -·-·- Р75

При разработке оптимальной системы ремонтов пути необходимо учитывать экономические показатели, т.е. стоимость производства работ при различных конструкциях железнодорожного пути.

В табл.3 приведены среднесетевые стоимости производства ремонтов пути при различных типах верхнего строения.

Таблица 3

Стоимость производства 1 км ремонта пути

| Тип верхнего строения пути | Капитальный ремонт, руб. | Средний ремонт, руб. | Подъемочный ремонт, руб. |
|-----------------------------|--------------------------|----------------------|--------------------------|
| Особо тяжелый - рельсы Р 75 | 906680 | 129433 | 60926 |
| Тяжелый – рельсы Р 65 | 650610 | 120249 | 57039 |
| Нормальный - рельсы Р 50 | 590700 | 121977 | 55597 |

Например, необходимо выбрать оптимальный тип верхнего строения пути, рациональную

систему ведения путевого хозяйства и определить величину амортизационных отчислений при следующих исходных данных: грузонапряженность участка 90 млн. т·км брутто/км в год, планируемый объем пропущенного по пути тоннажа до назначения капитального ремонта пути - 650 млн. т брутто.

Решение включает следующие этапы.

1. Выбор типов верхнего строения пути, позволяющих пропустить заданный тоннаж.
2. Сравнение вариантов конструкции пути по величине суммарного удельного выхода рельсов по графикам рис. 1
3. Определение количества и периодичности выполнения ремонтов.
4. Определение стоимости выполнения ремонтных работ.
5. Определение величины амортизационных отчислений на производство ремонтных работ.

Величина амортизационных отчислений может быть определена из выражения:

$$A = \frac{C \cdot \Gamma}{T}, \text{ руб/год на 1 км пути} \quad (1)$$

где: С - стоимость выполнения ремонтных работ, руб.;

Γ - грузонапряженность участка, млн. т брутто/ км в год;

Т - пропущенный тоннаж, млн.т. брутто.

6. Вывод по выбор конструкции верхнего строения пути.
7. Привести перечень конкретных организационно-технических мероприятий, направленных на усиление конструкции верхнего строения пути, повышение качества выполнения ремонтных работ, а также улучшение текущего содержания пути.

Задание 3.

На схеме необходимо показать полезную длину. Для сквозного и тупикового пути показывается полная длина

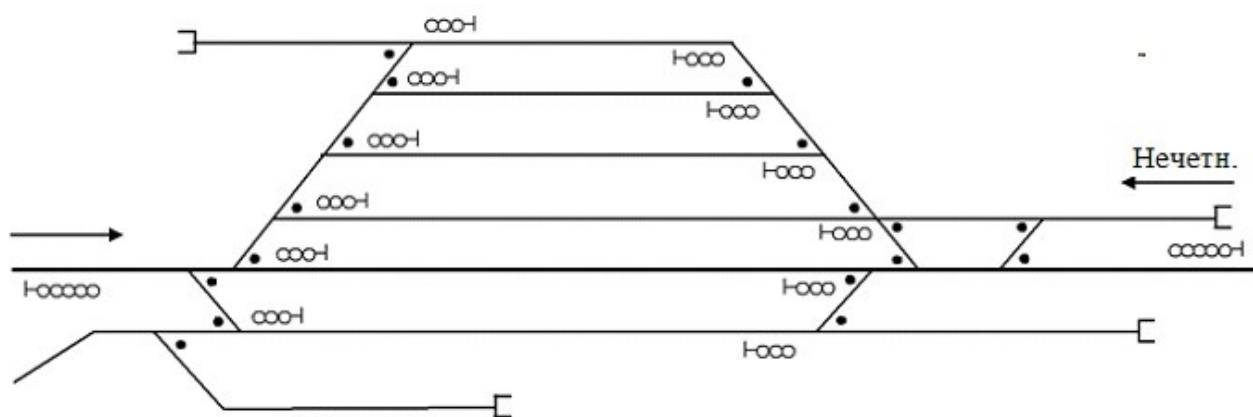


Рисунок 1 –Схема раздельного пункта для определения полной и полезной длины путей:

1 – главный (сквозной) путь, 2, 3, 4, 5, 6 – приемоотправочные пути, 7, 8, 9, 10 – тупиковые пути

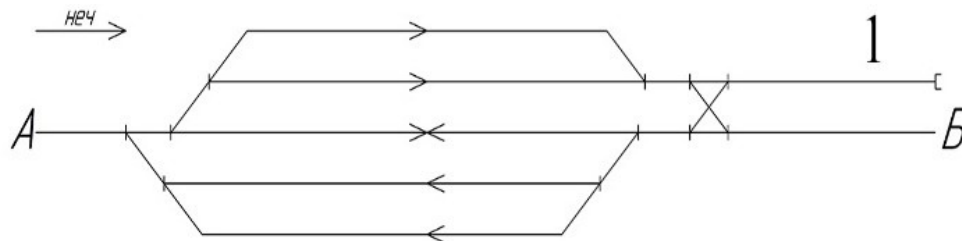
| | |
|--|--|
| <p>ОПК-3.3 Использует теоретические основы и опыт производства для принятия решений в области эксплуатации железнодорожного транспорта</p> | <p>Обучающийся владеет: навыками решения типовых задач используя теоретические основы, применяя нормативно-правовую базу и опыт производства для принятия решений в области эксплуатации железнодорожного транспорта</p> |
|--|--|

Примеры заданий

Задание 4.

На схеме станции необходимо указать:

- специализацию главных и приемоотправочных путей (стрелками помечается направление движения поездов),
- нумерацию путей, стрелочных переводов, светофоров, места установки предельных столбиков, входных и выходных сигналов.



Задание 5.

1. Составить путь следования поезда при показаниях входного светофора (по варианту табл.1), указать название следующего по ходу движения поезда светофора и обозначить сигнал на нем.

2. Составить путь следования поезда при показаниях выходного светофора (по варианту табл. 1) указать название следующего по ходу движения поезда светофора и обозначить сигнал на нем.

Таблица 1

| Вариант (последняя цифра учебного шифра) | Варианты индивидуальных заданий | |
|--|---------------------------------|---|
| | Схемы пути следования поезда | |
| | Показания светофора | |
| | входного | выходного |
| 1 | Один зеленый огонь. | Два желтых огня, из них верхний — мигающий. |

Задание 6.

«Выбор рационального типа подвижного состава для перевозки грузов»

Требуется:

1. Выбрать соответствующие типы вагонов под погрузку конкретных грузов, изучить и проанализировать технические нормы загрузки вагонов заданными грузами.

2. Для выбранных типов вагонов рассчитать следующие показатели: коэффициент удельной грузоподъемности k_z , погрузочный коэффициент тары k_m , коэффициент использования грузоподъемности λ , производительность вагона W_v , потребность в вагонном парке n для осуществления погрузки.

3. Выбрать рациональный тип вагонов для осуществления перевозок заданных грузов, обеспечивающий сокращение потребности в вагонном парке.

4. Привести конкретные мероприятия, позволяющие улучшить использование грузоподъемности и вместимости вагонов при перевозках заданных грузов.

Методические указания к решению задачи

Парк грузовых вагонов железных дорог состоит из разных типов вагонов, которые различаются конструкцией, грузоподъемностью, числом осей и приспособленностью для перевозки различных грузов. В зависимости от назначения, грузовые вагоны подразделяются на следующие основные группы: крытые, полувагоны, платформы, изотермические и специальные. Основными технико-эксплуатационными характеристиками вагонов являются; грузоподъемность, количество осей, вес тары, объем кузова, габаритные размеры кузова, площадь пола платформ, нагрузка на ось вагона, нагрузка на рельс от колесной пары, нагрузка на один погонный метр пути и другие.

При выборе наиболее рационального (экономичного) типа вагона необходимо исходить из обеспечения сохранности груза, приспособленности отдельных типов вагонов к перевозке, возможности механизированной погрузки и выгрузки конкретных грузов, а также обеспечения максимальной загрузки вагона с учетом его удельной грузоподъемности и объемного веса груза. При осуществлении перевозок и выполнении погрузочно-разгрузочных работ должна быть обеспечена охрана окружающей среды и техника безопасности обслуживающего персонала.

Тип вагона выбирается на основании характера и рода груза, анализа технических норм загрузки вагонов заданным грузом и изучения эксплуатационных характеристик вагонов. Повышение загрузки

вагонов сокращает потребность в вагонах и является резервом улучшения использования вагонного парка и снижения издержек перевозок.

При выборе типа вагона следует учитывать, что заданный груз может перевозиться только в одном типе вагонов (в крытом, в полувагоне, на платформе и т.д.) или в вагонах разных типов (платформа и полувагон и т.д.). В первом случае при выборе рационального типа вагона сравниваются показатели использования одного типа вагонов, имеющих различные эксплуатационные характеристики (объем кузова, грузоподъемность, число осей и т.д.). Во втором случае сравниваются характеристики различных типов вагонов.

Результаты выбора наиболее рационального подвижного состава рекомендуется свести в табл. 2. Потребное число вагонов для перевозки заданного груза определяется по формуле:

$$n = \frac{365Q_{сут}}{P_m} \text{ ваг,} \quad (1)$$

где $Q_{сут}$ – суточная погрузка, т;
 P_m – техническая норма загрузки грузового вагона, т.

Производительность вагонов является комплексным показателем для оценки их использования. Производительность вагона по каждому из сравниваемых типов можно определить из выражения:

$$W = \frac{S_g P_m}{1 + \alpha_{пор}} \text{ т км нетто/сутки,} \quad (2)$$

где S_g – среднесуточный пробег вагона, км/сутки;
 $\alpha_{пор}$ – коэффициент порожнего пробега.

Коэффициент удельной грузоподъемности k_z позволяет сделать вывод о возможности повышения технической нормы загрузки вагонов. Наиболее полно грузоподъемность и вместимость используется, если удельный вес груза q равен k_z . Если $q > k_z$, грузоподъемность вагона использована полностью, а вместимость – нет. В том случае, когда $q < k_z$ грузоподъемность вагона будет недоиспользована, а объем вагона занят грузом полностью.

Данные заполненной таблицы необходимо проанализировать и обосновать преимущества типа вагона, выбранного для перевозки.

Далее в работе необходимо кратко изложить основные мероприятия, позволяющие улучшить использование грузоподъемности и грузовместимости вагонов при перевозках заданного груза.

Исходные данные:

Род груза-бумага газетная

Суточное отправление груза-400т

Таблица 2

Результаты определения рационального типа подвижного состава

| Род груза | Типы сравниваемых вагонов (модель) | Характеристика вагонов | | | | Показатели использования вагонов при погрузке | | | Коэффициент удельной грузоподъемности, $k_z = P_{nc}/V_k$ | Суточное отправление груза, $Q_{сут}$, т | Годовая потребность в вагонах, n , ваг. | Производительность вагона, W_0 , ткм нетто/сут. |
|-----------|------------------------------------|------------------------|--------------------------------------|--------------------------------|---------------------|---|--|---|---|---|---|---|
| | | Число осей | Объем кузова, V_k , м ³ | Грузоподъемность, P_{nc} , т | Вес тары, q_t , т | Техническая норма загрузки, P_m , т | Коэффициент использования грузоподъемности, $\lambda = P_m/P_{nc}$ | Погрузочный коэффициент тары, $k_m = q_m/P_m$ | | | | |
| 1 | 2 | 3 | 4 | 5 | 6 | 7 | 8 | 9 | 10 | 11 | 12 | 13 |
| | | | | | | | | | | | | |

2.3. Перечень вопросов для подготовки обучающихся к промежуточной аттестации

1. Значение транспорта для государства, населения и обороноспособности страны. Основные показатели его работы.

2. Виды транспорта и их особенности. Роль железных дорог в единой транспортной системе страны. Техничко-экономическая характеристика видов транспорта.
3. Технические средства обеспечения перевозочного процесса и безопасности движения на железнодорожном транспорте.
4. Основные железнодорожные устройства и хозяйства. Структура управления железнодорожным транспортом.
5. Сооружения и устройства железнодорожного транспорта.
6. Габариты на железных дорогах.
7. Основные руководящие документы по обеспечению четкой работы железных дорог и безопасности движения поездов.
8. Основные экономические показатели работы железных дорог.
9. Основные сведения о категориях железнодорожных линий, их трассе, плане и продольном профиле.
10. Общие принципы и стадии проектирования железных дорог. Экономические и технические изыскания. Основы технико-экономического сравнения вариантов.
11. Организация строительных работ железнодорожных линий и краткие сведения об их механизации.
12. Общие сведения о железнодорожном пути.
13. Земляное полотно и его поперечные профили. Водоотводные сооружения.
14. Искусственные сооружения, их виды и назначение. Трубы, тоннели, подпорные стены, регуляционные сооружения и др.
15. Назначение, составные элементы и типы верхнего строения пути. Балластный слой, шпалы, рельсы, рельсовые скрепления, противоугоны. Бесстыковой путь и его преимущества.
16. Устройство рельсовой колеи. Общие сведения. Особенность устройства пути в кривых, на мостах и в тоннелях, на электрифицированных линиях.
17. Стрелочные переводы, назначение, типы, устройство.
18. Съезды, глухие пересечения, стрелочные улицы, конечные соединения.
19. Сооружения и устройства электроснабжения. Схема электроснабжения железных дорог. Системы тока и напряжение в контактной сети.
20. Общие сведения о тяговом подвижном составе. Сравнение различных видов тяги. Классификация тягового подвижного состава.
21. Электрический подвижной состав. Общие сведения. Механическая часть электровоза.
22. Электрическое оборудование электровозов постоянного и переменного тока. Электропоезда.
23. Дизельные поезда, автомотрисы, мотовозы, газотурбовозы. Принцип работы паровоза
24. Основные понятия о взаимодействии пути и локомотива.
25. Локомотивное хозяйство. Общие сведения. Обслуживание локомотивов и организация их работы.

3. Методические материалы, определяющие процедуру и критерии оценивания сформированности компетенций при проведении промежуточной аттестации

Критерии формирования оценок по ответам на вопросы, выполнению тестовых заданий

«Отлично/зачтено»- выставляется обучающемуся, если количество правильных ответов на вопросы составляет 100 – 90% от общего объёма заданных вопросов;

«Хорошо/зачтено»- выставляется обучающемуся, если количество правильных ответов на вопросы – 89 – 76% от общего объёма заданных вопросов;

«Удовлетворительно/зачтено» - выставляется обучающемуся, если количество правильных ответов на тестовые вопросы –75–60 % от общего объёма заданных вопросов;

«Неудовлетворительно/ не зачтено»- выставляется обучающемуся, если количество правильных ответов – менее 60% от общего объёма заданных вопросов.

Критерии формирования оценок по результатам выполнения заданий

«Отлично/зачтено» – ставится за работу, выполненную полностью без ошибок и недочетов.

«Хорошо/зачтено» – ставится за работу, выполненную полностью, но при наличии в ней не более одной негрубой ошибки и одного недочета, не более трех недочетов.

«Удовлетворительно/зачтено» – ставится за работу, если обучающийся правильно выполнил не менее 2/3 всей работы или допустил не более одной грубой ошибки и двух недочетов, не более одной

грубой и одной негрубой ошибки, не более трех негрубых ошибок, одной негрубой ошибки и двух недочетов.

«Неудовлетворительно/не зачтено» – ставится за работу, если число ошибок и недочетов превысило норму для оценки «удовлетворительно» или правильно выполнено менее 2/3 всей работы.

Виды ошибок:

- *грубые ошибки: незнание основных понятий, правил, норм; незнание приемов решения задач; ошибки, показывающие неправильное понимание условия предложенного задания.*

- *негрубые ошибки: неточности формулировок, определений; нерациональный выбор хода решения.*

- *недочеты: нерациональные приемы выполнения задания; отдельные погрешности в формулировке выводов; небрежное выполнение задания.*

Критерии формирования оценок по зачету

«Зачтено» – обучающийся приобрел необходимые умения и навыки, продемонстрировал навык практического применения полученных знаний, не допустил логических и фактических ошибок или незначительные ошибки и неточности.

«Не зачтено» – обучающийся демонстрирует фрагментарные знания изучаемого курса; отсутствуют необходимые умения и навыки, допущены существенные или грубые ошибки.